




Lies zuerst alle Aufgaben gründlich durch, bevor du mit der Arbeit beginnst. Alle Aufgaben sind schriftlich zu lösen.

	Aufgabe	fer- tig?			
<b>INFO</b>	<p><b>Gib am 23.04.2020 in der Klassenlehrerstunde deine bearbeiteten Erdkundeaufgaben deinem Klassenlehrer ab.</b></p> <p>Wenn du deine E-Mail-Adresse angibst, erhältst du eine persönliche Rückmeldung zu deiner Bearbeitung.</p>				
<b>10c</b>	<p><b>EK-Buch S. 38-39</b></p> <p>1. Lies T1 und zeichne M1 für Äthiopien (Skizze genügt) und M2 ab. Übertrage M4 in dein Heft/auf ein Blatt.</p> <p>2. Lies die 5 Schritte zur Auswertung einer Bevölkerungspyramide aufmerksam. Löse dann die Aufgaben 1, 3 und 4 schriftlich in deinem Heft/auf einem Blatt.</p>				