




Lies zuerst alle Aufgaben gründlich durch, bevor du mit der Arbeit beginnst. Alle Aufgaben sind schriftlich zu lösen.

	Aufgabe	fer- tig?			
<b>INFO</b>	<b>Gib am 23.04.2020 in der Klassenlehrerstunde deine bearbeiteten Erdkundeaufgaben deinem Klassenlehrer ab.</b>				
<b>10b</b>	<b>EK-Buch S. 38-39</b> 1. Lies T1 und zeichne M1 für Äthiopien (Skizze genügt) und M2 ab. Übertrage M4 in dein Heft/auf einem Blatt. 2. Lies die 5 Schritte zur Auswertung einer Bevölkerungspyramide aufmerksam. Löse dann die Aufgaben 1, 3 und 4 schriftlich in deinem Heft/auf einem Blatt.				